



$$5 + 7 + 6 = \square$$

$$16 - 4 - 3 = \square$$

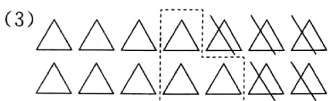
4. 看图列算式计算。(12分)



$$\square \bigcirc \square \bigcirc \square = \square$$



$$\square \bigcirc \square \bigcirc \square = \square$$




$$\square \bigcirc \square \bigcirc \square = \square$$

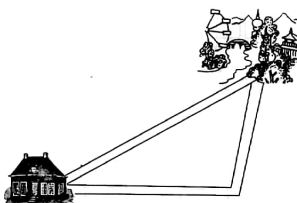
四、心灵手巧。(11分)

1. 比一比,画一画。(6分)

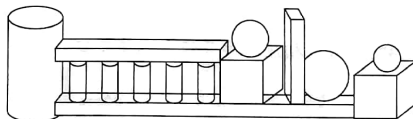
(1) 给重的涂上颜色。



(2) 把近的路涂上颜色。



2. 数一数,填一填。(5分)



(1) 上图中 有 () 个, 有


() 个, 有 () 个, 有 () 个。

(2) 其中最多的图形比最少的图形多 () 个。

五、解决问题。(24分)

1. 公共汽车上原来有 16 人,到站下车 8 人,又上车 12 人,现在车上有多少人?

2. 一共采了多少蘑菇?



3. 一(1)去植树,男生植了 13 棵,比女生多植了 6 棵。一(1)班共植树多少棵?

